

ШИФР 8-65

Олимпиадная работа
муниципального этапа всероссийской олимпиады школьников

по географии
учащегося 8 класса

муниципального автономного общеобразовательного учреждения
«Образовательный комплекс «Лицей №3» имени С.П. Угаровой»
Старооскольского городского округа

Кугрышевой Елизаветы Павловны
(ФИО полностью)

Педагог-наставник:

учитель МАОУ «ОК «Лицей №3»
имени С.П. Угаровой»
(наименование ОУ)

Беседина Лилия Михайловна
(ФИО полностью)

	Задание 1.	Задание 2.	Задание 3.	Задание 4.	тест	итого
Баллы	05 5/5	60 60	120 120	320 320	15 15	655 655

Максимальный балл – 124

Максимальное количество баллов – 10

0

Название Б Эксперт 0

Максимальное количество баллов – 17

85

10 м. - ~~поверхностная~~ 7 мм. рт.ст.

- $108,1 \text{ м} = 104,4 \cdot 2) 104,4 : 10 = 10,44 \text{ мм. рт. ст.}$ 3) $460 + 10,44 = 470,44 \text{ мм. рт. ст.}$
8. Какой берег у р. Соть пологий? Да 0
9. Перечислите, какие пути сообщения ведут к угольным шахтам? Железная дорога; шоссейная дорога 0
10. Верно ли, что шахты являются недействующими? Железные 0,5

Задание 3.

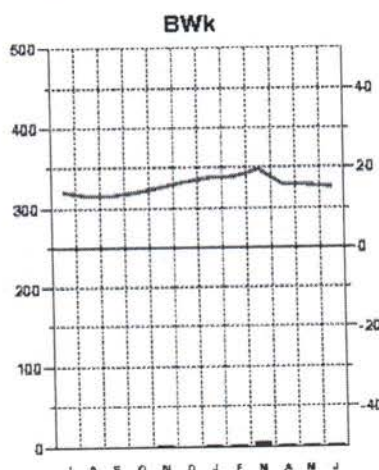
Максимальное количество баллов – 16

128

Четыре друга - юные географы одной из школ Татарстана летом посетили разные уголки земного шара и каждый привез с собой климатограмму того места, где он побывал.

Прочтите краткую характеристику территории, сопоставьте место пребывания с климатограммой (у климатограммы А внимательно посмотрите на месяцы), ответьте на вопросы, заполните таблицу.

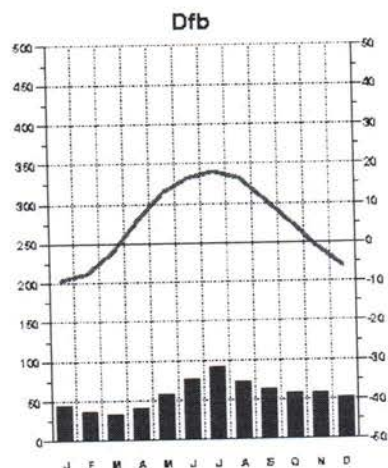
3 m
15.6 Grad C
13 mm



А

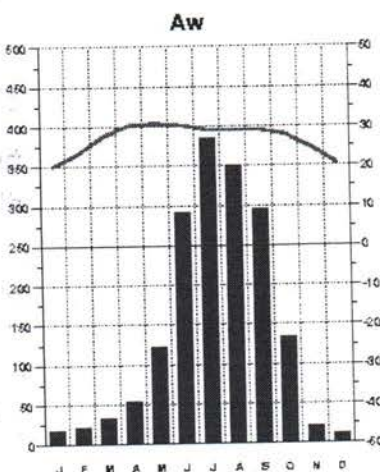
156 m

5.0 Grad C
688 mm



В

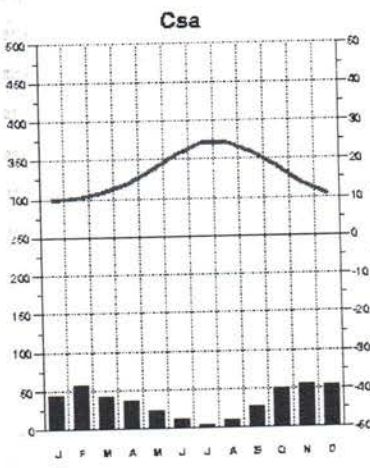
6 m
26.9 Grad C
1739 mm



Б

18 m

16.4 Grad C
417 mm



Г

1. Первый школьник побывал в центре одной из крупнейших равнин мира (климатограмма соответствует центру равнины). Поверхность равнины характеризуется развитостью речной сети: часть рек стекает в Северный ледовитый океан, другая часть относится к водосборному бассейну Атлантического океана, а самая крупная река — к области внутреннего стока. Как называется равнина и самая крупная река?

2. Второй школьник побывал на самом большом острове моря, которое является реликтом океана Тетис и имеет связь с Атлантическим океаном через узкий пролив. На острове находится самый высокий действующий вулкан Европы. Как называется остров и вулкан?

3. Третий школьник побывал в пределах природной зоны (биома), которая сформировалась под воздействием холодного течения, на западном побережье материка, расположенного в трех полушариях. Поверхность здесь сложена песчаным и каменистым материалом. Водится жук-чернотелка и растение вельвичия. Здесь можно пособирать литопсы. Как называется эта территория? Что такое литопсы?

4. Четвертый школьник побывал в самой крупной речной дельте в мире, которая образуется при слиянии двух крупных рек региона. Как называются эти две реки? Здесь произрастает самый большой мангровый лес (вечнозеленый лиственный) – лес в приливо-отливной зоне.

№ описания	Литера климатограммы	Климатический пояс	Ответ на вопросы
1	B +	Умеренный +	Западно-Европейская равн., р. Волга ++
2	F +	Субтропический +	с. Византия; вост. Эфиоп. ++
3	A +	Субтропический -	Пустыня Нубийская +
4	B -	Зона тропического +	Амазонская и Ориноко -

Задание 4. Максимальное количество баллов – 61

32

Задания на знание географической номенклатуры (по 1 баллу за верный ответ)

Во вторую колонку таблицы следует записывать номер объекта, который в вопросах отмечен подчёркиванием. Цифровое обозначение государств или крупных регионов на карте проставлено около их административных центров, названия рек – около их устьев.

Вопрос	№ на карте	Дополнительные вопросы	Ответ
1. Самый крупный остаток первобытного реликтового <u>леса</u> на территории Европы	5 4	Запишите: а) его название; б) названия государств, на которых расположен данный лес; в) названия столиц этих государств	б) Испания / Франция в) Мадрид / Париж
2. Это явление распространено на острове Гомера и получило название «сильбо гомеро». Долгое время оно считалось единственным в своём роде. Сегодня известно, что посредством такого способа могут общаться в а) Греции, б) Турции, в) Мексике, г) Индии, французских д) Пиренеях, е) Зимбабве и ж) Замбии	а-41 б-30 в-61 г-31 д-4 е-60 ж-54 з-	Запишите: а) к какому архипелагу относится остров Гомера; б) в состав какого государства входит архипелаг; в) каково происхождение островов В случае неправильно указанных названий номер на карте на зачитывается	а) Канарский архипелаг б) Испания 1.
3. Какие страны омываются водами некогда крупного <u>моря</u> , но при этом не имеют выхода к Мировому океану?	43 1	Запишите: а) название моря; б) названия стран; в) к какой языковой семье относится население этих стран	а) Каспийское 1 б) Азербайджан, 1 в) Казахстан, Узбекистан, Таджикистан г) Молдавия / Румыния
4. Самая высокая <u>горная вершина</u>	45 1	Запишите: а) название горного массива;	

Антарктиды		б) какому государству принадлежит эта территория; в) название природной зоны, в которой расположен массив	б) США Аргентина Антарктическая Арктика пустыня
5. Регион/территория за которой большинством исследователей признаётся первенство возникновения письменности (не иероглифики)	98	Запишите: а) название <u>территории</u> ; б) народ, создавший первую письменность; в) что явилось носителем для записей	а) Северный Китай / первобытные Красного моря б) Шумеры
6. В какой стране находится самое высокогорное постоянное поселение	35 56	Запишите: а) название <u>страны</u> и её столицы; б) название горной системы, в пределах которой находится эта страна; в) название уникального озера, расположенного на юго-восточной границе; г) в чем уникальность озера	а) Гонконг , Катманду б) Тибет - Шань в) Иссык-Куль а) Кыргызстан б) Кызыл-Душ и Шань-Шань в) Иссык-Куль
7. Какие из перечисленных объектов не являются полуостровами: А) <u>Малакка</u> , В) <u>Малая Азия</u> , С) <u>Маракайбо</u> , Д) <u>Лабрадор</u> , Е) <u>Юкатан</u> , F) <u>Бретань</u> , G) <u>Хайнань</u> (при указании номеров в ответе соблюдайте заданную последовательность, если ответ не знаете, ставьте прочерк)	A: 66 1 B: 30 1 C: 86 1 D: 102 1 E: 40 1 F: 8 1 G: 43 1	Запишите: чем является каждый из выбранных вами объектов (не полуостровов)	С) Маракайбо - озеро G) Хайнань - остров
8. Крупнейший в мире архипелаг по количеству островов	В поле для ответов	Запишите: а) название архипелага; б) названия <u>пяти самых больших островов</u> в его составе + укажите цифры, которыми отмечены эти острова; в) преобладающий тип естественной растительности	а) Малайский б) Ива - 7 , Камбоджа - 85 , Суматра - 44 , Флора - 54 , Ява - 53
9. Каких животных завезли в <u>Якутию</u> из <u>Канады</u> , которые успешно адаптировались к суровым условиям проживания?	103	Запишите: а) название животных; б) в скольких часовых поясах расположена Якутия;	а) Северные олени б) 8 звук
10. На берегах какой реки расположен город <u>Красноярск</u> ?	35	Запишите: а) названия реки; б) название ГЭС, которая является самой мощной в России;	а) Енисей б) Енисейская ГЭС

ТЕСТОВЫЙ РАУНД

(за каждый верный ответ- 1 балл, максимально – 20 баллов)

1.	2.	3.	4.	5.	6.	7.	8.	9.	10.
11.	12.	13.	14.	15.	16.	17.	18.	19.	20.

- На территории какого государства в день зимнего солнцестояния полуденное солнце находится в зените?
а) России, б) Китае, **в) Бразилии**, г) Индонезии 1
- Какое озеро является самым северным из перечисленных:
а) Виктория, б) Байкал, в) Мичиган, **г) Ладожское**. 1
- Какие горы не имеют отношения к территории России?
а) Уральские горы; б) Алтай; в) Кавказ; **г) Тянь-Шань**. 1
- Какая река относится к бассейну Атлантического океана?
а) Северная Двина, **б) Кубань**, в) Печора, г) Урал. 1
- Остров, на котором расположена столица государства -
а) Мадагаскар, б) Гренландия, в) Сицилия, г) Сахалин. 1
- В каком масштабе карта соответствует крупномасштабным картам?
а) 1:100 000, б) 1:500 000, в) 1:1000 000, г) нет верного ответа. 1
- Самая большая по площади страна Евразии, которая не выходит к морю:
а) Казахстан, **б) Монголия**, в) Узбекистан, г) Кыргызстан. 0
- Где образуется новая земная кора океанического типа?
а) во внутренних морях, б) в океанических желобах,
в) в зоне срединно-океанических хребтов, г) в области островных дуг. 1
- Какая из перечисленных горных пород характерна для щитов платформ?
а) гранит, б) глина, **в) известняк**, г) песчаник. 0
- Откуда дует пассат в южном полушарии?
а) с юга, **б) юго-востока**, в) с севера, **г) с юго-запада**. 0
- Какой остров получает больше всего осадков за год?
а) Тайвань, **б) Калимантан**, в) Шри-Ланка, г) Тасмания. 1
- Какое течение самое мощное в Мировом океане?
а) Западных ветров, б) Гольфстрим, в) Южное пассатное, г) Северное пассатное. 1
- Какое слово является синонимом слова «изогипсы»?
а) меридианы, б) параллели, **в) горизонтали**, г) вертикали. 1
- Линии, соединяющие точки с одинаковой соленостью – это...
а) изобаты, б) изодинамы, в) изобары, **г) изогалины**. 1
- Какое кругосветное путешествие будет короче:
а) по параллели 50° ю.ш., б) по меридиану 50° в.д.,
в) по экватору, **г) по параллели 10° с.ш.** 0
- Какие из перечисленных названий природных объектов не принадлежат вулканам?
а) Мауна-Лоа, **б) Поопо**, **в) Килауза**, г) Ключевская сопка. 1
- Какой прибор предназначен для измерения расстояний и превышений одной точки над другой?
а) анемометр, б) буссоль, **в) нивелир**, г) ватерпас. 1
- По самому широкому на Земле проливу можно попасть:
а) из Атлантического океана в Тихий, б) из Тихого океана в Атлантический, 0
в) из Атлантического океана в Северный ледовитый, г) из Тихого океана в Индийский.
- На какой территории была зарегистрирована относительная влажность воздуха 0%?
а) Антарктида, б) Сахара, в) Эверест, **г) на Земле нет такого места**. 1
- Вследствие потепления климата в Казани появились птицы, которые не характерны для территории Татарстана. Это –
а) свиристели, **б) бакланы**, в) утки, г) дрозды. 1